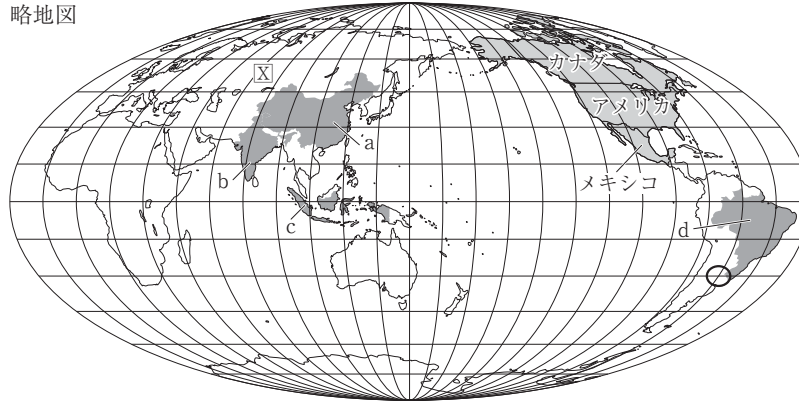


名前

青森県公立高 2021年

1 下の略地図や資料を見て、次の(1)~(3)に答えなさい。

略地図



(1) 次のア、イに答えなさい。

ア 略地図中のXの大陸名を書きなさい。() 大陸)

イ 略地図中のOの位置を表している緯度と経度の組み合わせとして適切なものを、次の1~4の中から一つ選び、その番号を書きなさい。()

- 1 北緯と西経 2 北緯と東経 3 南緯と西経 4 南緯と東経

(2) 資料1は、略地図中のa~dの国の輸出額上位3品目を表している。aの国について表しているものを資料1中の1~4の中から一つ選び、その番号を書きなさい。()

資料1

	第1位	第2位	第3位
1	大豆	機械類	肉類
2	石油製品	機械類	ダイヤモンド
3	石炭	パーム油	機械類
4	機械類	衣類	繊維品

〔世界国勢図会 2017/18〕による

(3) 略地図中のカナダ、アメリカ、メキシコについて、次のア~ウに答えなさい。

ア この3か国の太平洋側の一部をふくむ造山帯を何と
いうか、書きなさい。()

イ アメリカで暮らす移民について述べた下の文中の(Y)にあてはまる語を書きなさい。

()

メキシコ、中央アメリカ、西インド諸島の国々などからやってきた(Y)語を話す移民はヒスパニックと呼ばれ、農場、建設工事現場など、重労働の職場で低い賃金で働く人が少なくない。

ウ 資料2は、カナダ、アメリカ、メキシコの貿易相手国を表している。この3か国の関係について、資料2を参考にして、「カナダ、アメリカ、メキシコの3か国は、」に続けて、次の2語を用いて書きなさい。

カナダ、アメリカ、メキシコの3か国は、()


貿易協定 経済

名前

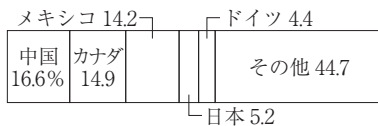
/

資料2


カナダ 輸出入合計 8530 億ドル



アメリカ 輸出入合計 3兆9530 億ドル



メキシコ 輸出入合計 8298 億ドル



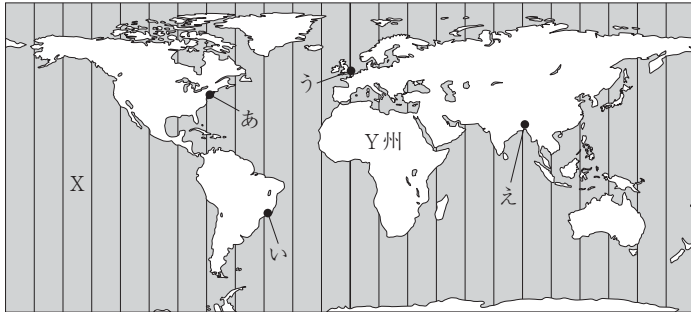
〔国際連合貿易統計年鑑 2017 年版〕による〕

名前

秋田県公立高 2021年

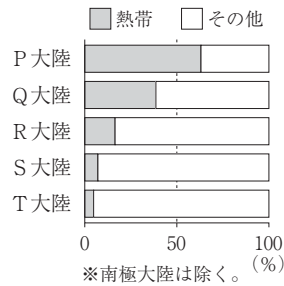
2 次の地図と図、表を見て、(1)~(4)の問いに答えなさい。

地図



※本初子午線を基準に、経線を15°ごとに引いている地図。

図1 各大陸における熱帯の面積の割合



(「データブック オブ・ザ・ワールド 2020年版」から作成)

図2 外国に住んでいる中学生Aさんとの会話

いま日本は午後8時。わたしは、^aいろいろな国や地域の特徴について調べているところよ。

Aさん

こっちは、いま午前8時だよ。今日は、^b発展途上国の課題について勉強しようと思っているんだ。



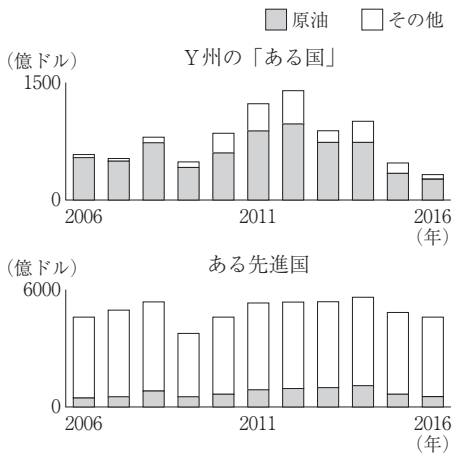
※サマータイム制度は考えないものとする。

表 国や地域の比較 (2017年)

項目 国・地域	面積 (千km ²)	人口 (百万人)	GDP (億ドル)	貿易額(億ドル)	
				輸出	輸入
ア	8 516	209	20 555	2 178	1 575
イ	4 374	511	173 065	56 927	56 140
ウ	9 834	325	194 854	15 467	24 095
エ	9 600	1 421	122 378	22 804	18 423
オ	378	128	48 724	6 982	6 713

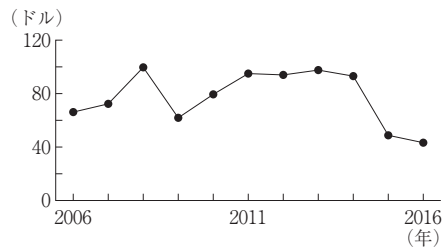
(「世界国勢図会 2019/20年版」などから作成)

図3 輸出総額に占める原油の推移の比較



(国連資料から作成)

図4 原油価格の推移 [1バレル(約159L)あたり]



(「世界国勢図会 2019/20年版」から作成)

- (1) 地図のXの海洋名を書きなさい。()
- (2) 日本の標準時子午線上に国土を有する国のうち、最も面積の大きい国の名称を書きなさい。()
- (3) 図1のP大陸の名称を書きなさい。(大陸)
- (4) 図2に関連した問題である。
 - ① 二人の会話から、Aさんが住んでいる位置を、地図のあ~えから一つ選んで記号を書きなさい。()

名前



-
- ② 下線部㉓について、表のア～オは、それぞれ日本、アメリカ、ブラジル、中国、EU のいずれかを示している。EU を示すものを、一つ選んで記号を書きなさい。()
- ③ 下線部㉔について、地図の Y 州の「ある国」の輸出総額が安定しない理由を、図 3 と図 4 から読みとれることを関連づけて書きなさい。
()

名前

/

大分県公立高 2021年

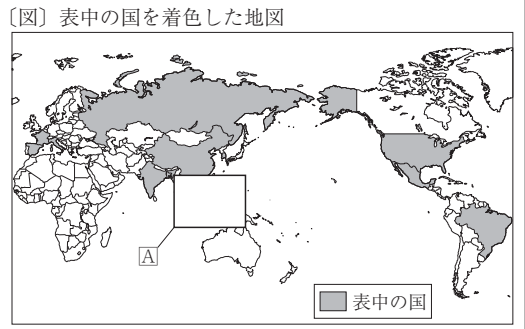
3 太郎さんと花子さんは、大分県内にある外国の料理が食べられる店について調べた。資料1は二人が作成したものであり、下は資料1についての会話文である。(1)~(5)の問いに答えなさい。

資料1

〔表〕 大分県内にある外国の料理が食べられる店

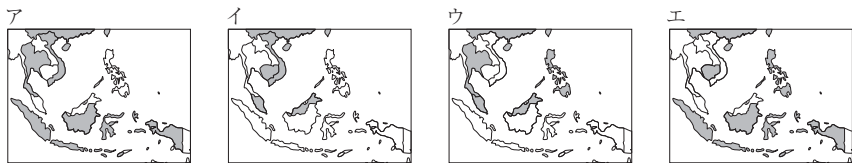
国名	店数	国名	店数
中国	229	イタリア	130
韓国	57	フランス	70
タイ	5	スペイン	8
インドネシア	1	ロシア	1
ベトナム	3	アメリカ	1
インド	23	メキシコ	4
バングラデシュ	1	ブラジル	1
スリランカ	5		

※統計年次は2020年
(複数の飲食店検索ホームページをもとに作成)



先生：よくまとめましたね。調べる過程で、気付いたことや疑問に思ったことはありましたか。
 太郎：a 中国の料理は種類がとても多くて驚きました。それから、バングラデシュの料理を調べていて、「b ハラル」という言葉が出てきたので、あとで調べてみようと思います。
 花子：私は、c ヨーロッパの料理の店が多いことと、d アメリカの料理の店が少ないことが気になりました。
 先生：では、もう少し調べてみましょう。

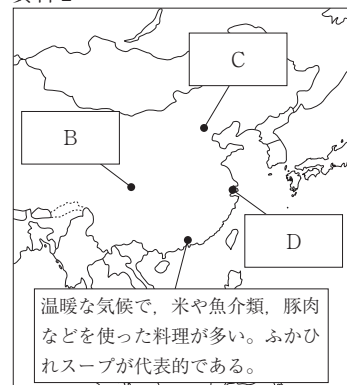
(1) 〔図〕中のAに当てはまる図として最も適当なものを、ア~エから1つ選び、記号を書きなさい。
 ()



(2) 下線部 a に関連して、資料2は中国の料理について調べたものである。資料2中のB~Dの地域と、各地域の料理についての説明文㉔~㉖の組み合わせとして最も適当なものを、ア~カから1つ選び、記号を書きなさい。()

- ㉔ 小麦や豚肉、羊肉を使った料理が発達し、味が濃く塩辛い料理が多い。水餃子が代表的である。
- ㉕ 大河川を利用して作られた米などの穀物や魚介類を使った料理が多い。八宝菜が代表的である。
- ㉖ 内陸の盆地で作られた米や大豆、香辛料を使った料理が多い。マーボー豆腐が代表的である。

資料2



	ア	イ	ウ	エ	オ	カ
B	㉔	㉔	㉕	㉕	㉖	㉖
C	㉕	㉖	㉔	㉖	㉔	㉕
D	㉖	㉕	㉖	㉔	㉕	㉔

名前

(3) 下線部 b に関連して、資料 3 はハラールについて調べたことをまとめたものである。[E] に当てはまる内容を書きなさい。()

資料 3

【ハラールについて】
 ハラールと関係の深い国についてまとめると右図のようになり、[E] が多いという共通点があることが分かります。
 ハラールとは、「食べることが許されている」という意味であり、[E] は、ハラールではない食べ物を口にすることが禁じられています。そのため、間違っ
 て口にしてしまうことを防ぐために、店頭や製品にハラールであることを認証するマークが使われています。

【図】

認証マークの例

(4) 下線部 c に関連して、①～③の問いに答えなさい。

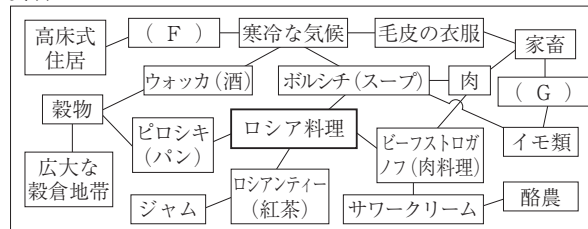
① イタリアとフランスの共通点について述べた文として **適当でないもの** を、ア～エから 1 つ選び、記号を書きなさい。()

- ア どちらも地中海に面している。 イ どちらもプロテスタントを信仰する人が多い。
 ウ どちらも温帯に属している。 エ どちらもラテン系言語が多く使われている。

② 資料 4 はロシア料理について調べ、関連する語句をつなげて作成した図である。(F), (G) に当てはまる語句の組み合わせとして最も **適当なもの** を、ア～エから 1 つ選び、記号を書きなさい。()

	F	G
ア	白夜	焼畑農業
イ	永久凍土	焼畑農業
ウ	白夜	混合農業
エ	永久凍土	混合農業

資料 4



③ 次はヨーロッパの食文化についてまとめたものである。文中の [H] に当てはまる内容を書きなさい。()

ヨーロッパには多くの国があり、歴史の中で国ごとに食文化が形成されてきたことが分かりました。しかし、1993 年に [H] ことによって、多くの国で国境を越えた移動が自由になっています。今後は、国という枠組みにとらわれず、さらに食文化が変化することも考えられます。

(5) 下線部 d に関連して、次はアメリカの料理についての会話文である。会話文中の (I) に当てはまる語句を、**漢字 5 字** で書きなさい。()

花子：アメリカの料理を調べたところ、ハンバーガーがアメリカの料理として紹介されているホームページもありました。

太郎：そう考えると、アメリカの料理の店は、とても多くなりますね。アメリカの有名なハンバーガーチェーン店は世界中に広がっていますから。

名前

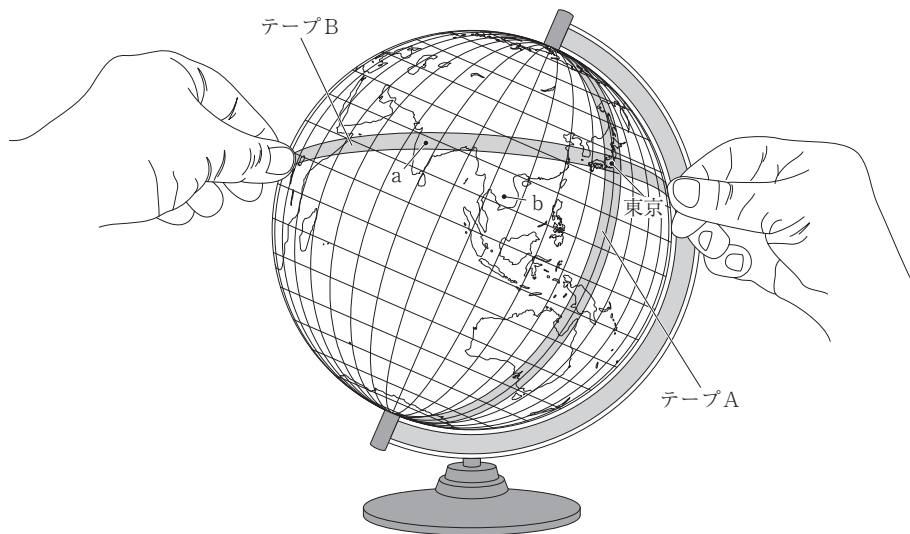
/

先生：ええ、各国の食文化に新たな影響をもたらしていますね。このような世界中に支店を持つ企業のことを何というか覚えていますか。

花子：はい。(I)です。

岩手県公立高 2021年

4 次の図は、地球儀上にテープをおいているようすを描いたものです。図中のテープ A とテープ B は、直角に貼り合わせています。また、テープ A とテープ B の交わったところを地球儀上の東京におき、テープ A は経線に合わせています。これを見て、下の(1), (2)の問いに答えなさい。



- (1) テープ B は、図中の a の地点を通っています。東京からみて、a の地点はおよそどの方位にありますか。次のア～エのうちから一つ選び、その記号を書きなさい。()
 ア 東 イ 西 ウ 南 エ 北
- (2) 次のア～エのうち、図中の b の地域で見られる伝統的な住居について述べているものとして、最も適当なものはどれですか。一つ選び、その記号を書きなさい。()
 ア 針葉樹の豊富な木材を利用した、丸太づくりの住居。
 イ 羊毛のフェルトを利用した、遊牧民の移動式の住居。
 ウ 風通しがよく、湿気や暑さをやわらげる高床式の住居。
 エ 泥を乾燥させてかためた、日干しれんがを積み上げた住居。